

さんすう

たしざんとひきざん 5

ちがいはいくつ



なまえ

ステップ 1

- 「ちがいはいくつ」のばめんえと
ことばとしき

5 - 1 ~ 4

ステップ 2 ためしのがくしゅう

- ① えで もんだいをかんがえる。
えず やブロックずで しきをかんがえる。
ことばで しきをあらわす。

5 - 5・6

ステップ 3 えらんでする 1

- ① えずで かんがえる。

5 - 7 ~ 11

- ② ブロックずで かんがえる。

5 - 12 ~ 16

ステップ 4

- ① えやずをかいて かんがえる。

5 - 17 ~ 19

ステップ 5 えらんでする 2

- ① えずで かんがえる。

5 - 20 ~ 22

- ② ブロックずで かんがえる。

5 - 23 ~ 25


ステップ 6

- ① えやずをかいて かんがえる。

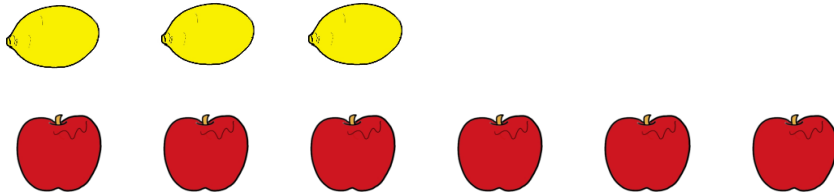
5 - 26 ~ 28

せんで つないで かずを くらべましょう。


どちらが いくつ おおいですか。




[] が [] こ おおい。



[] が [] こ おおい。




[] が [] こ おおい。




[] が [] こ おおい。

せんで つないで かずを くらべましょう。

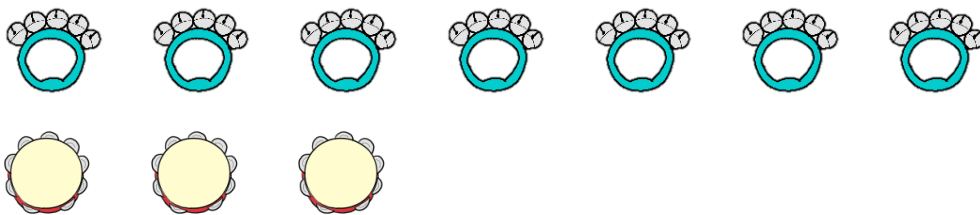
ちがいは いくつですか。




ちがいは []



ちがいは []




ちがいは []



ちがいは []

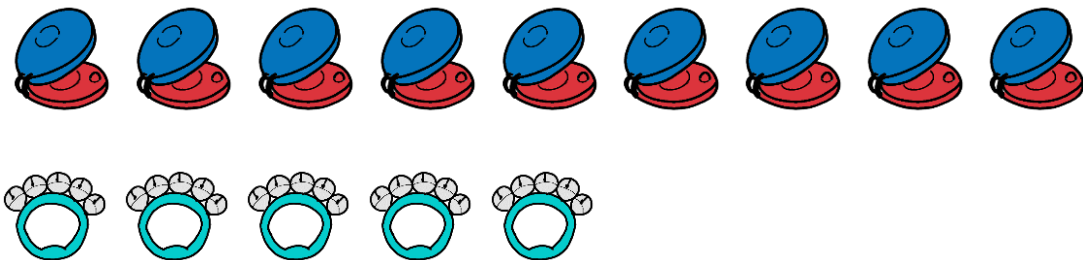
せんで つないで かずを くらべましょう。

どちらが いくつ おおいですか。



ケーキが こ プリンが こ あります。

が こ おおい。



カステネットが こ すずが こ あります。

が こ おおい。

せんで つないで かずを くらべましょう。

[] に かずや ことばを かきましょう。


1. あめが [] こ ケーキが [] こ あります。

[] は [] より [] こ おおい。




2. メロンが [] こ りんごが [] こ あります。

[] は [] より [] こ おおい。



3. ケーキが [] こ ジュースが [] こ あります。


[] は [] より [] こ おおい。



すいかが 10 こ あります。

メロンは 4 こ あります。

すいかは メロンより なんこ おおいですか。



1 もんだいを かんがえる。

○ たずねていることばを □ で かこむ。

○ 2つのかずに せんを ひく。

○ たずねていることばと 2つのかずに かく。

たずねていることば

2つのかず

[

]

[

]

○ メロンと おなじ かずの すいかを □ で かこむ。


○ たずねていることと 2つのかずに かく。

[

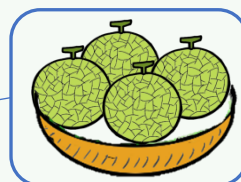
]

[

]



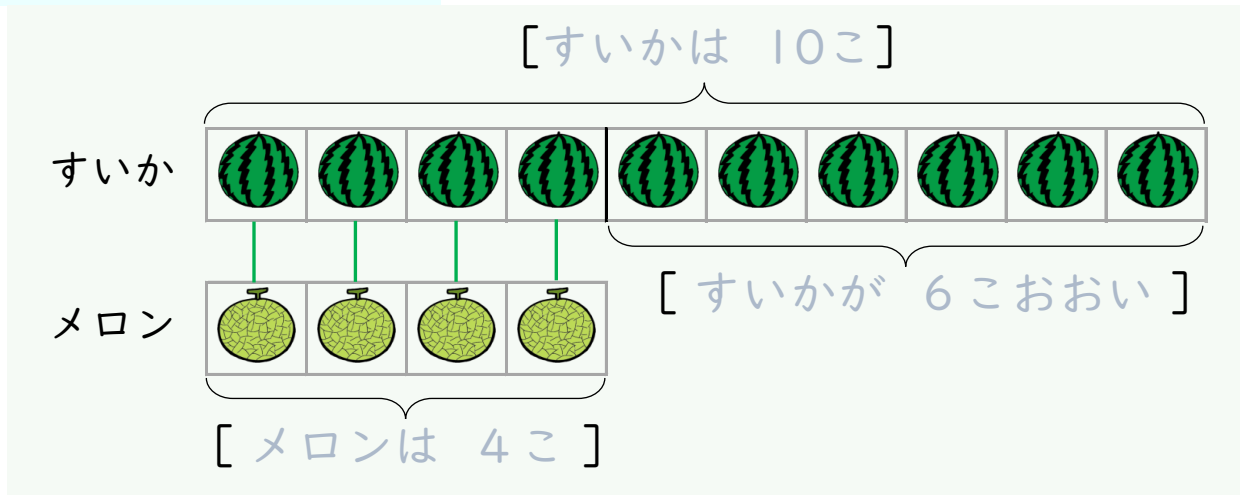
おなじ
かず



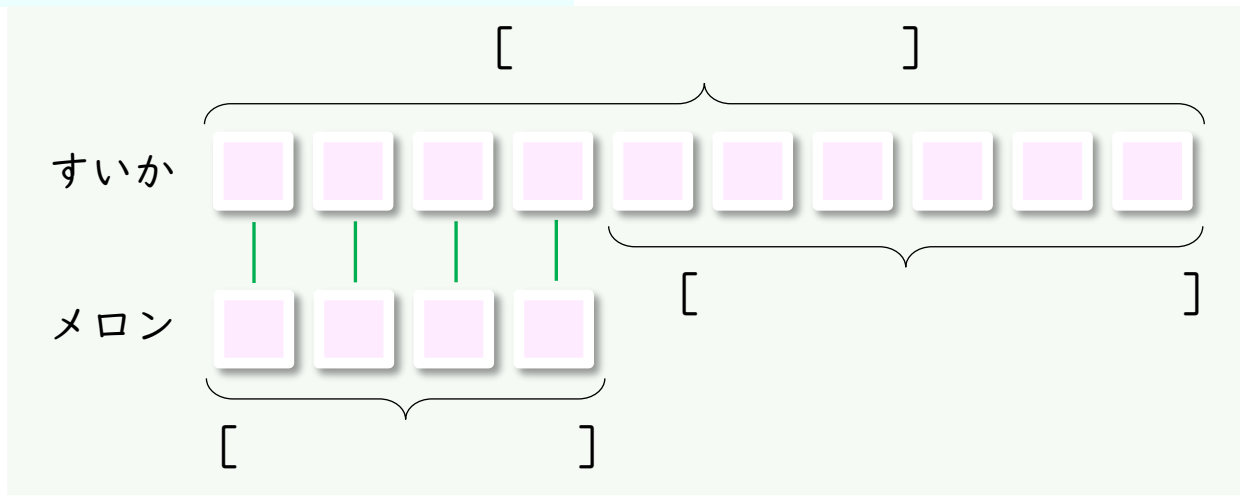
たずねて
いること

2 しきを かんがえる。

えずで かんがえる



ブロックずで かんがえる



3 ことばのしきをつくる。


すいか [こ] から メロン [こ] を [ひくと]

すいかが [こ] おおい。

すいかが 7こ あります。

メロンは 4こ あります。

すいかは メロンより なんこ おおいですか。



たずねていることばと 2つのかずを みつける

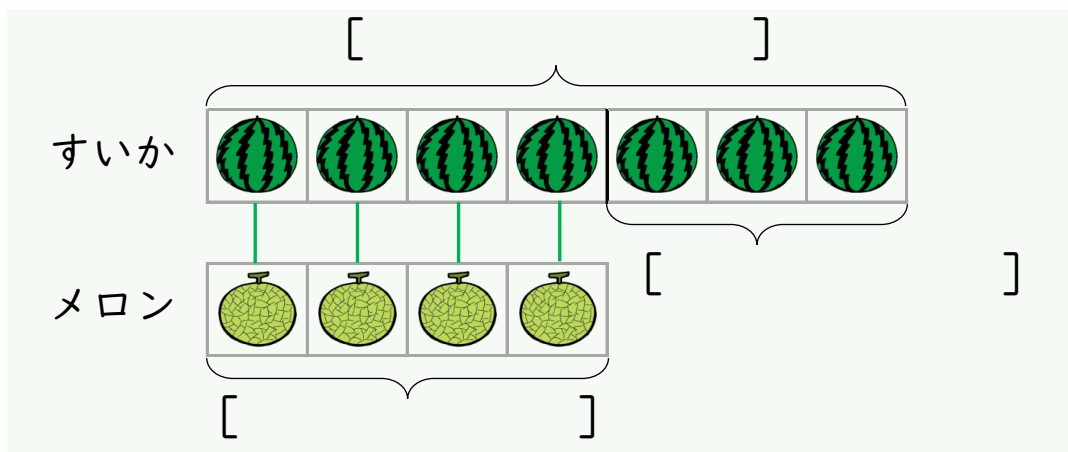
たずねていることば

2つのかず

[]

[]

えずで しきを かんがえる



ことばのしき

すいか [] から メロン [] を []

すいか [] おおい。

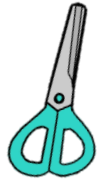
しきと こたえ

しき

こたえ [] おおい。

のりが 9こ はさみが 5ほん あります。

のりは はさみより なんこ おおいですか。



たずねていることばと 2つのかずを みつける

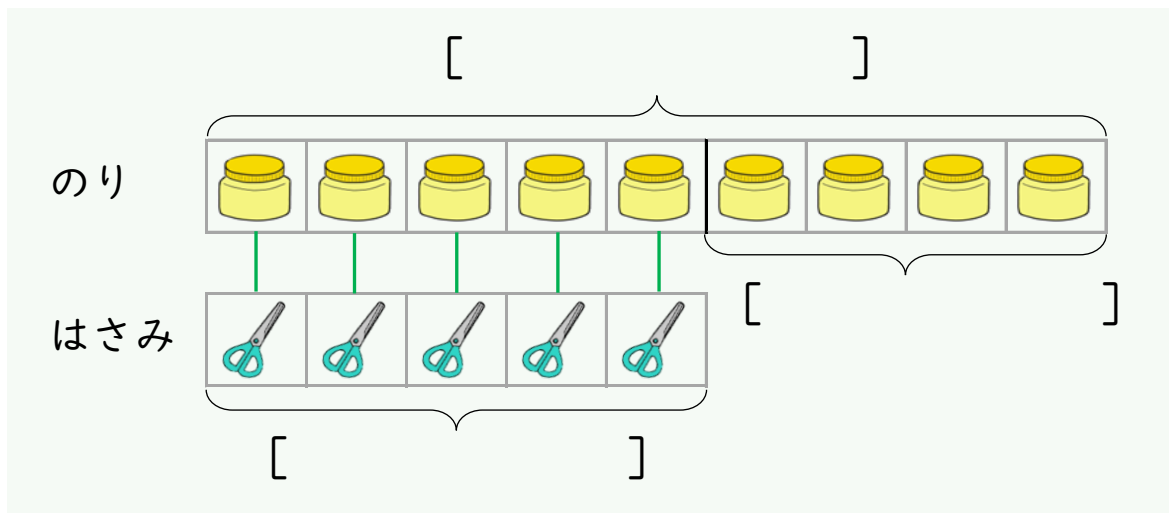
たずねていることば

2つのかず

[]

[]

えずで しきを かんがえる



ことばのしき

のり [こ] から はさみ [ほん] を []

のりが [こ] おおい。

しきと こたえ

しき

こたえ [こ] おおい。

みかんは りんごより なんこ おおいですか。



たずねていることは

--

[

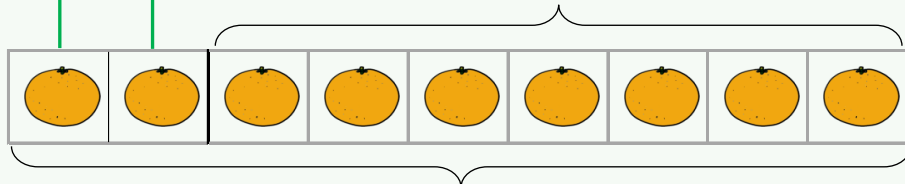
]

[

]

[]

[



[

]

みかん [こ] から りんご [こ] を []

しき


--



かきが 8こ あります。

りんごが 3こ あります。

どちらが なんこ おおいですか。



たずねていることばと 2つのかずを みつける

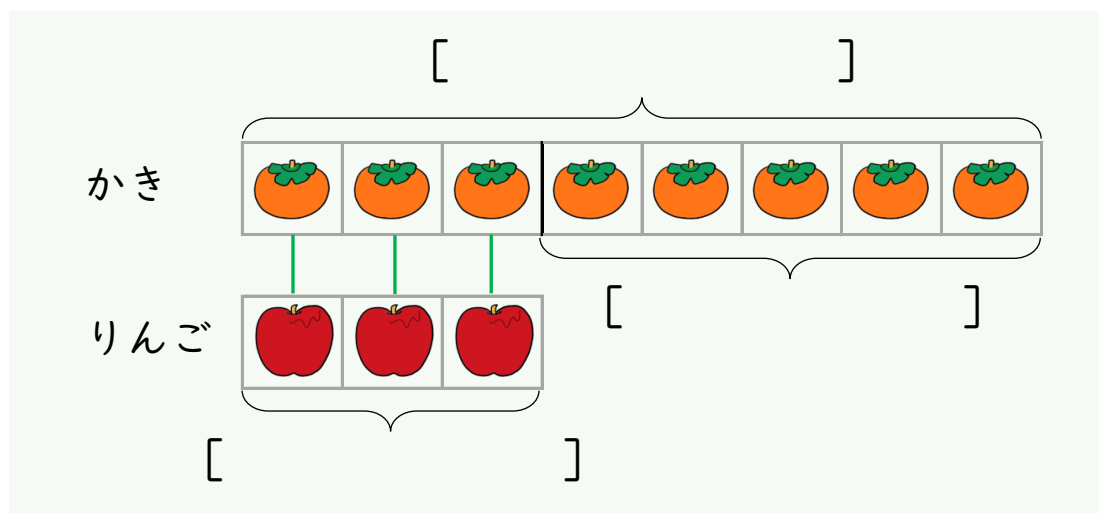
たずねていることば

2つのかず

[]

[]

えずで しきを かんがえる



ことばのしき

かき [こ] から りんご [こ] を []

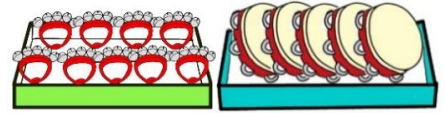
[] が [こ] おおい。

しきと こたえ

しき

こたえ [] が [こ] おおい。

どちらが なんこ おおいですか。



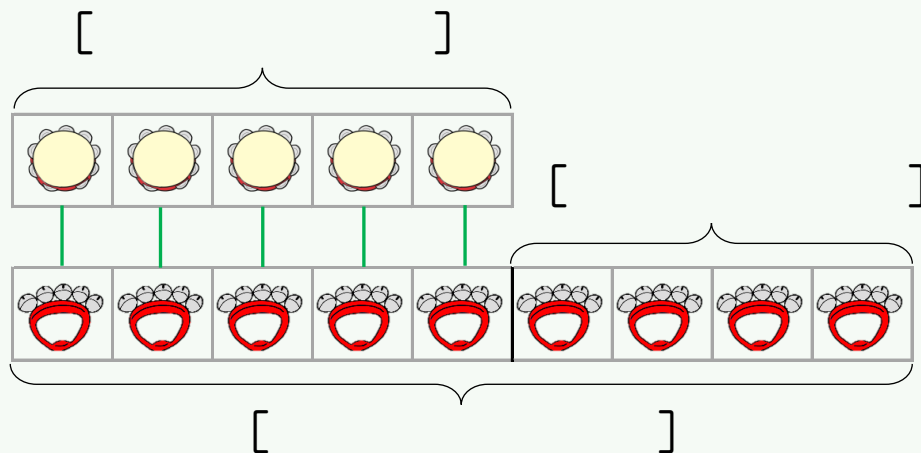
たずねていることは

--

$$[\quad]$$

[]

すず



すず [こ] から タンブリン [こ] を []

[] が [こ] おおい。

しき

--

こたえ [] が [こ] おおい。

すいかが 7こ あります。

メロンは 4こ あります。

すいかは メロンより なんこ おおいですか。



たずねていることばと 2つのかずを みつける

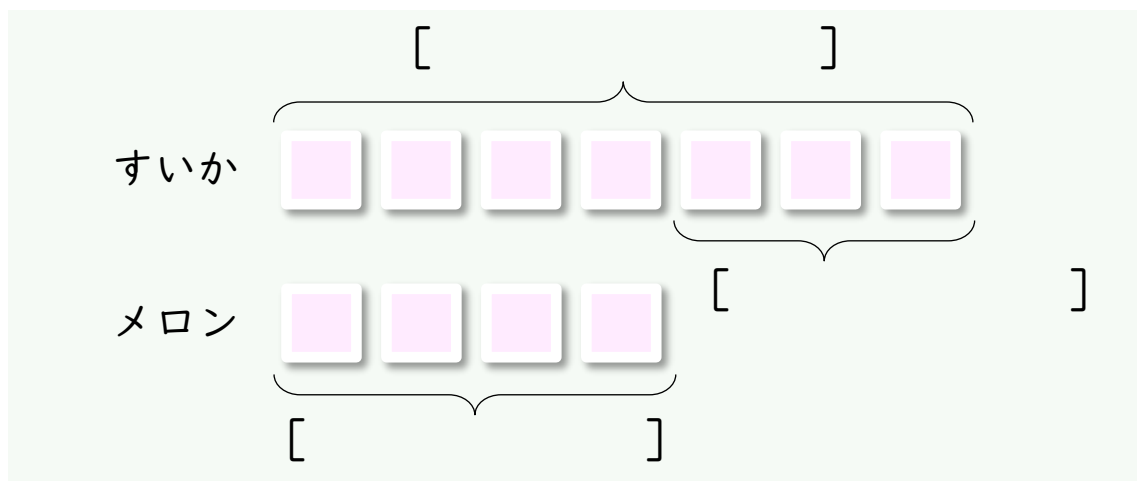
たずねていることば

2つのかず

[]

[]

ブロックずで しきを かんがえる



ことばのしき

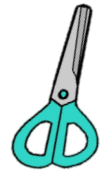
しきと こたえ

しき

こたえ [こ] おおい。

のりが 9こ はさみが 5こ あります。

のりは はさみより なんこ おおいですか。



たずねていることばと 2つのかずを みつける

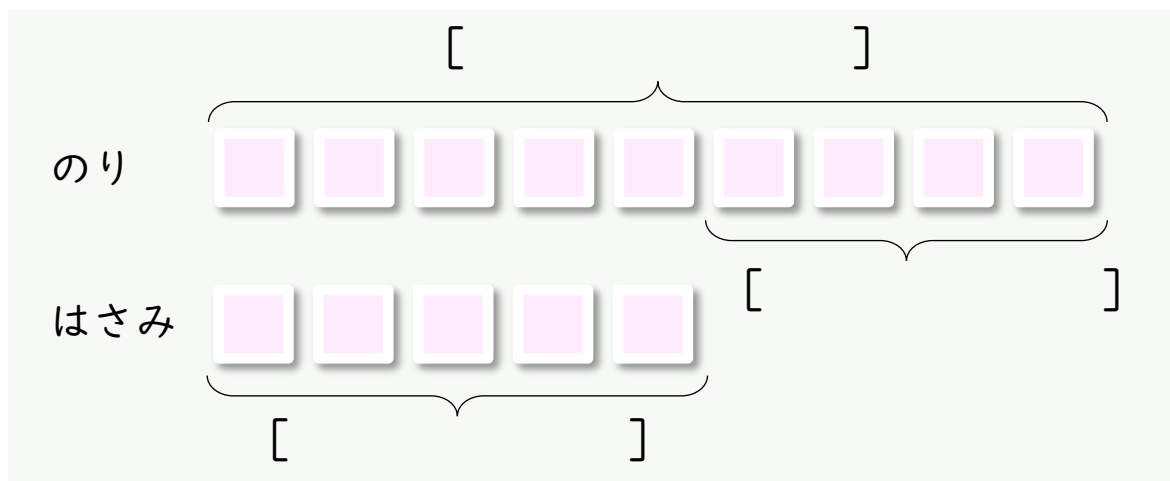
たずねていることば

2つのかず

[]

[]

ブロックずで しきを かんがえる



ことばのしき


しきと こたえ

しき

こたえ [こ] おおい。

りんごが 2こ みかんが 9こ あります。

みかんは りんごより なんこ おおいですか。



たずねていることばと 2つのかずを みつける

たずねていることは

--

2つのかず

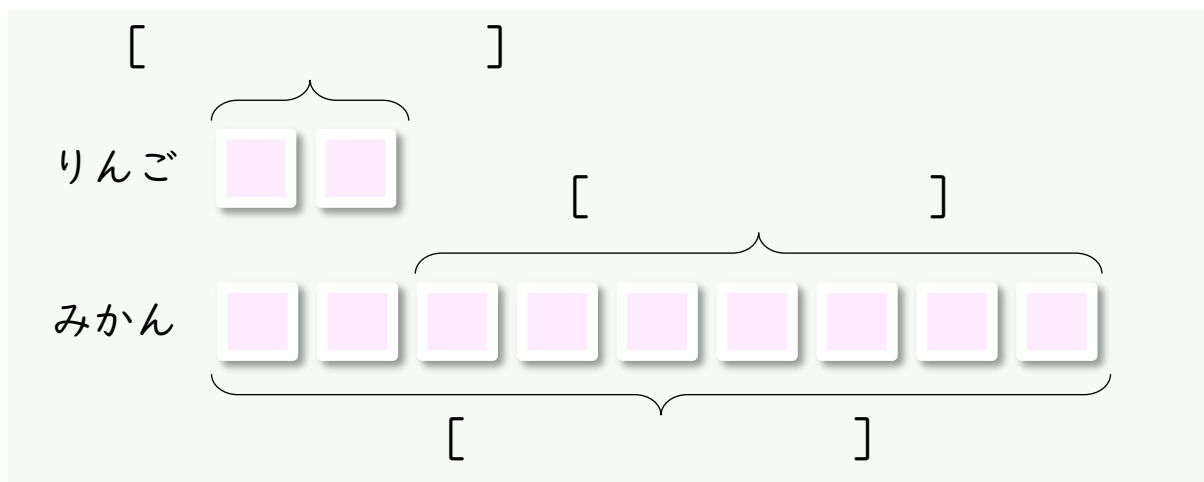
[

]

[

]

ブロックずで しきを かんがえる



ことばのしき

しきと こたえ

しき


--

こたえ　〔　こ〕　おい。

かきが 8こ あります。

りんごが 3こ あります。

どちらが なんこ おおいですか。



たずねていることばと 2つのかずを みつける

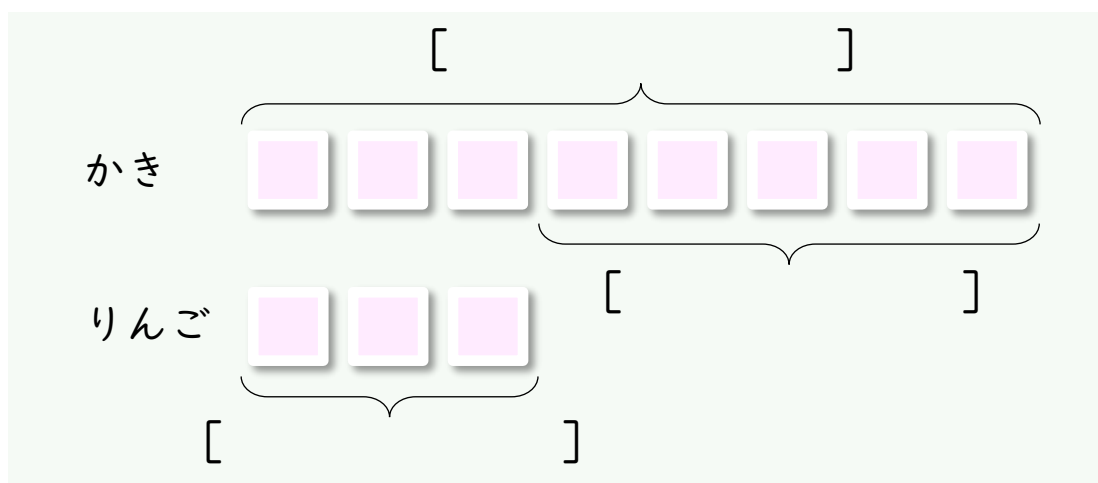
たずねていることば

2つのかず

[]

[]

ブロックずで しきを かんがえる



ことばのしき

しきと こたえ

しき

こたえ [] が [こ] おおい。

どちらが なんこ おおいですか。



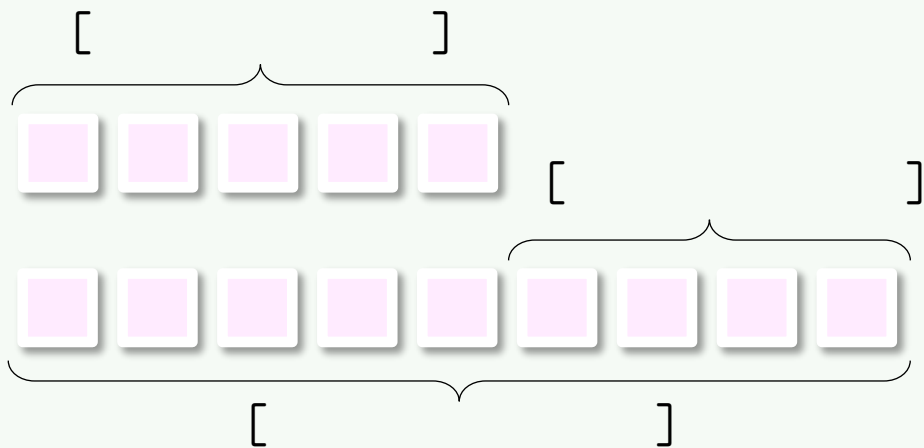
たずねていることは

--

2つのかず

$$[\quad]$$
[]

タンブリン




すず

しき

--

こたえ [] が [こ] おおい。

にんじんが 4ほん だいこんが 8ほん あります。
だいこんは にんじんより なんぼん おおいですか。



たずねていることばと 2つのかずを みつける

たずねていることば

2つのかず

[]

[]

えやずを かいて しきを かんがえる

ことばのしき


しきと こたえ

しき

こたえ

あかいはなが 2ほん

しろいはなが 7ほん あります。



しろいはなは あかいはなより なんぼん おおいですか。

たずねていることばと 2つのかずを みつける

たずねていることば

2つのかず

[

]

[

]

えやずを かいて しきを かんがえる


ことばのしき

しきと こたえ

しき

こたえ

きゅうりが 3ほん なすが 7ほん あります。
なすは きゅうりより なんぼん おおいですか。



たずねていることばと 2つのかずを みつける

たずねていることば

2つのかず

[]

[]

えやずを かいて しきを かんがえる


ことばのしき

しきと こたえ

しき

こたえ

あかいはなが 6ぽん
 きいろいはなが 3ぽん あります。
 ちがいは なんぽんですか。



たずねていることばと 2つのかずを みつける

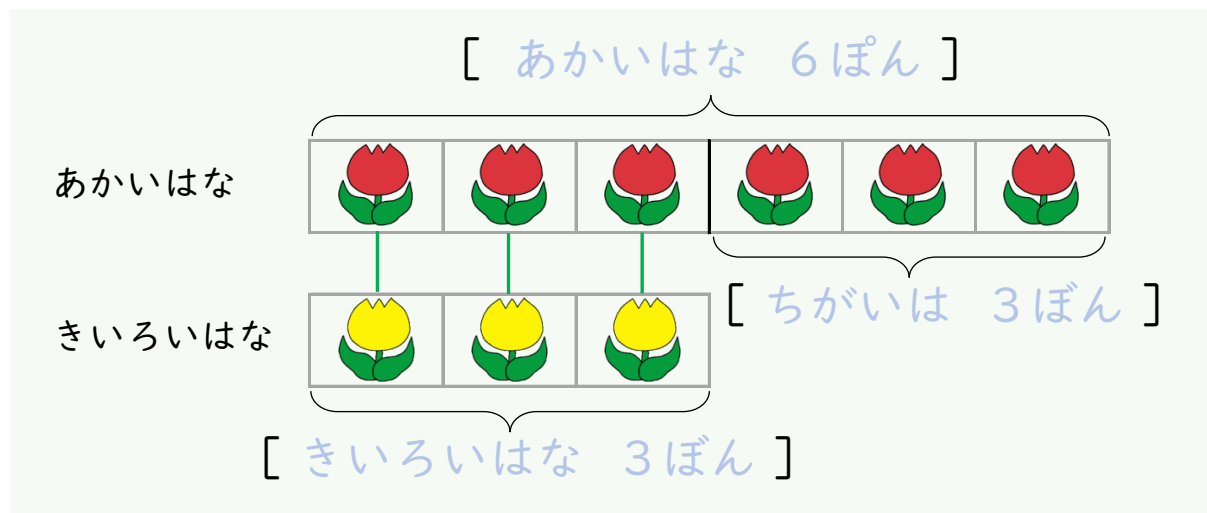
たずねていることば

2つのかず

[]

[]

えずで しきを かんがえる



ことばのしき

あかいはな [ぽん] から きいろいはな [ぽん] を
 [] ちがいは [ぽん]

しきと こたえ

しき

こたえ ちがいは [ぽん]

--

[]

[]

あおいぼうし

きいろいぼうし

The diagram illustrates a comparison between two sets of hats. The top set consists of seven blue hats, and the bottom set consists of four yellow hats. Brackets above the blue hats and below the yellow hats indicate the total count for each set. Four green vertical lines connect the first four blue hats to the four yellow hats, showing that there are more blue hats than yellow hats.

あおいぼうし [こ] から きいろいぼうし [こ] を
[] ちがいは [こ]

--

こたえ　ちがいは [　こ]

--

[

[]


みかん

りんご

--

5 - 22

あかいはなが 6ぽん
 きいろいはなが 3ぽん あります。
 ちがいは なんぽんですか。



たずねていることばと 2つのかずを みつける

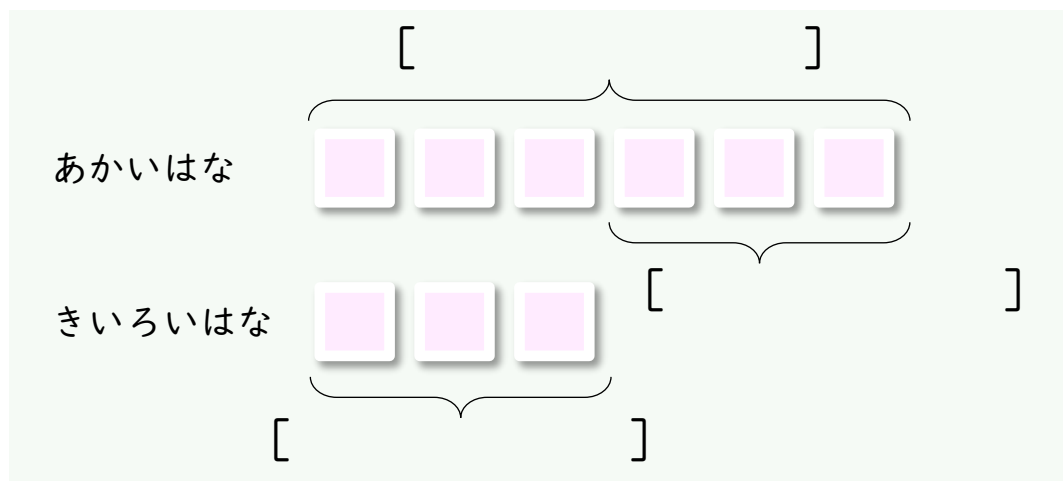
たずねていることば

2つのかず

[]

[]

ブロックずで しきを かんがえる



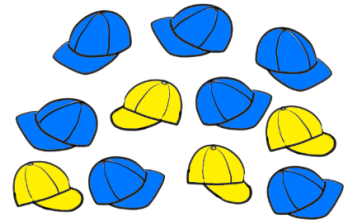
ことばのしき

しきと こたえ

しき

こたえ ちがいは [] ほん

あおいぼうしが 7こ
 きいろいぼうしが 4こ あります。
 ちがいは なんこですか。



たずねていることばと 2つのかずを みつける

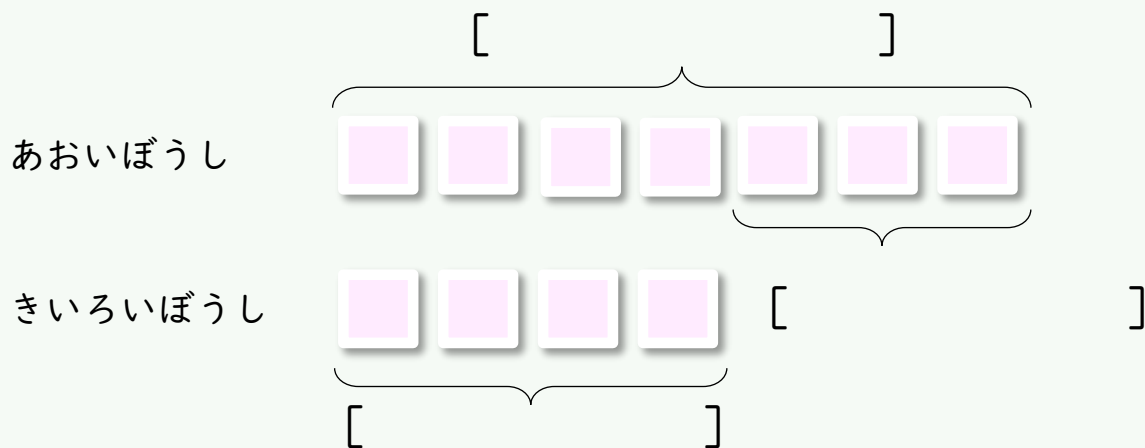
たずねていることば

2つのかず

[]

[]

ブロックずで しきを かんがえる




ことばのしき

しきと こたえ

しき

こたえ ちがいは []

みかんが 8こ りんごが 6こ あります。
ちがいは なんこですか。



たずねていることばと 2つのかずを みつける

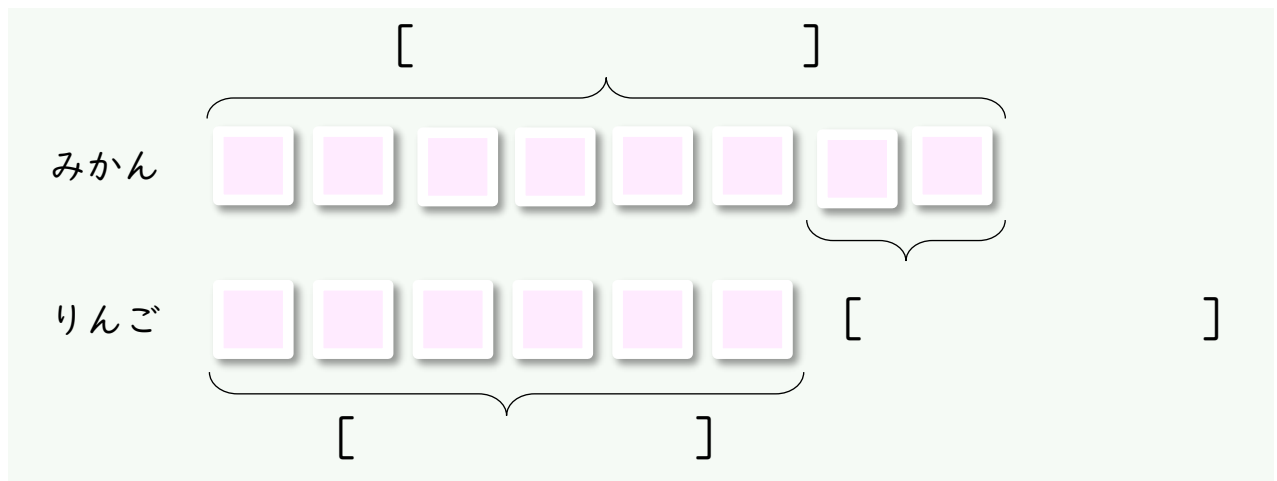
たずねていることば

2つのかず

[]

[]

ブロックずで しきを かんがえる



ことばのしき


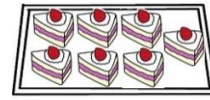
しきと こたえ

しき

こたえ ちがいは [こ]

ケーキが 7こ ドーナツが 4こ あります。

ちがいは いくつでしょう。



たずねていることばと 2つのかずを みつける

たずねていることば

2つのかず

[]

[]

えやずを かいて しきを かんがえる


ことばのしき

しきと こたえ

しき

こたえ

あかいかさが 2ほん
きいろいかさが 5ほん あります。
ちがいは いくつでしょう。



たずねていることばと 2つのかずを みつける

たずねていることば

2つのかず

[]

[]

えやずを かいて しきを かんがえる

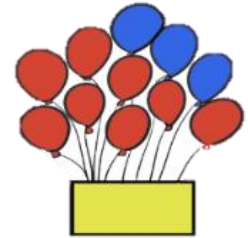
ことばのしき

しきと こたえ

しき

こたえ

あかいふうせんが 8こ
あおいふうせんが 3こ あります。
ちがいは いくつでしょう。



たずねていることばと 2つのかずを みつける

たずねていることば

2つのかず

[]

[]

えやずを かいて しきを かんがえる

ことばのしき

しきと こたえ

しき

こたえ